

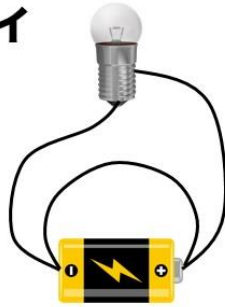
## ショート回路

次の豆電球と乾電池、電流計のつなげ方で、豆電球がつかないのはどれか？すべて選び、記号で答えなさい。

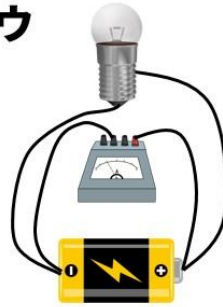
ア



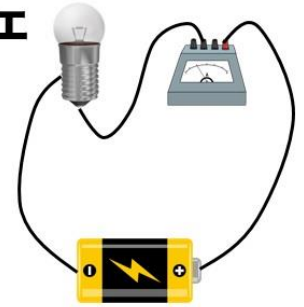
イ



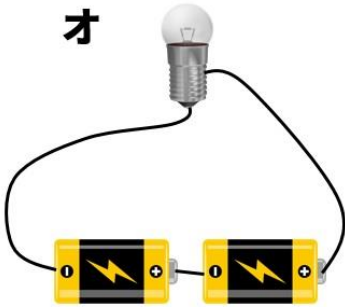
ウ



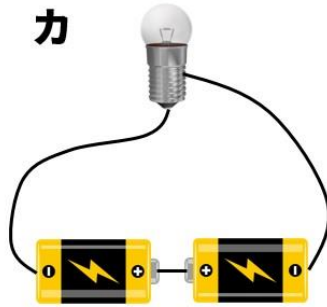
エ



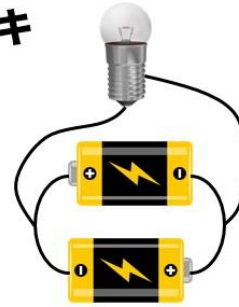
オ



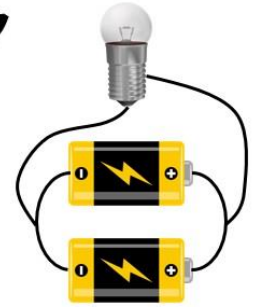
カ



キ



ク



解答欄