

下の図1、図2のように、もののあたたまり方を調べる実験をした。これについて、以下の各問いに答えよ。

図1

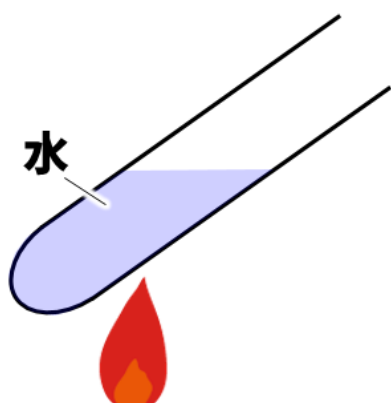
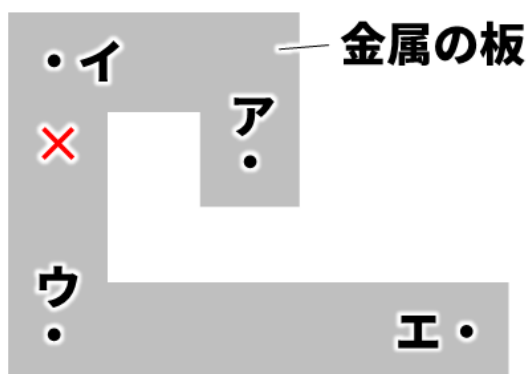
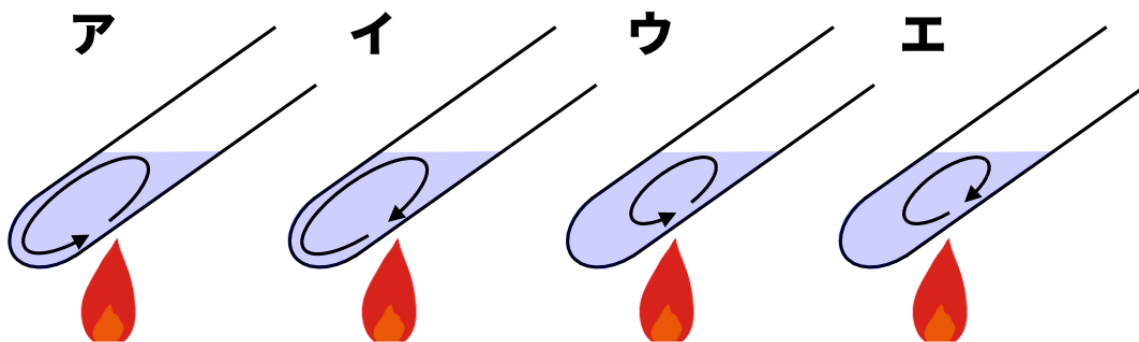


図2



【1】図1で試験管内の水におがくずを入れ、アルコールランプで熱した場合、水の中のおがくずはどのように動くか。その動きを矢印で表したものを、次の中から選び、記号で答えよ。



【2】図2のように、金属の板の×印のところをアルコールランプで熱した場合、一番あたたまるのが遅いのはア～エの中のどれか。

解答欄

【1】

【2】