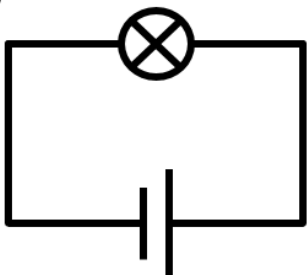


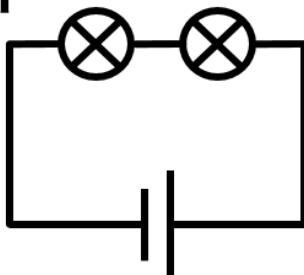
乾電池と豆電球の明るさ(1)

【1】下のア～カの豆電球でもっとも明るく点灯している豆電球はどれか。ただし、どれも同じ豆電球、乾電池を使ったものとする。

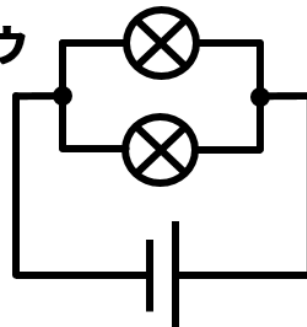
ア



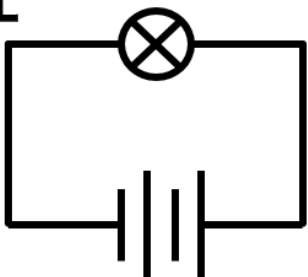
イ



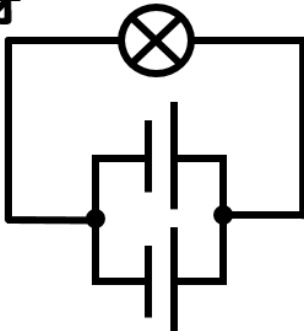
ウ



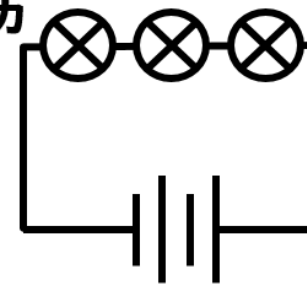
エ



オ



カ



【2】上のア～カの豆電球でもっとも長く点灯している豆電球はどれか。

解答欄

【1】

【2】